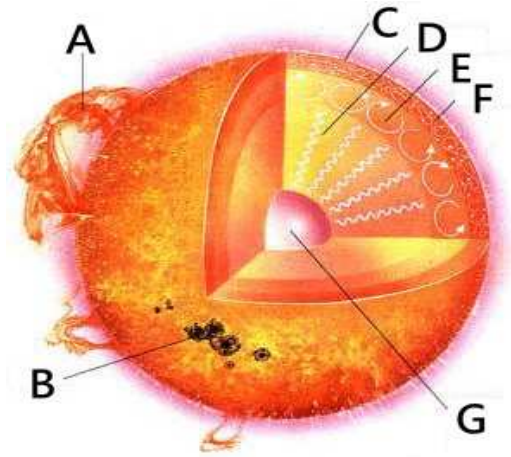



2013 天文館威震太陽神特展 學習單 (國小高年級)




圖一

- () 1、黑子是太陽溫度較低的地方，請問圖一何處代表黑子？
(1) A (2) B (3) C。
- () 2、核心是太陽溫度最高的地方，請問圖一何處代表核心？
(1) E (2) F (3) G。



圖二

- () 3、圖二是透過「日冕儀」拍攝太陽周圍的照片，請問圖二左邊白色長條型物體，是哪一種天體？
(1) 彗星 (2) 流星 (3) 行星。
- () 4、日冕溫度約幾度？
(1) 1000 度 (2) 10000 度 (3) 100 萬度。
- () 5、請問圖三太陽表面突出物 (箭頭所指位置) 是太陽的什麼？
(1) 輻射層 (2) 日珥 (3) 光球層。



2013 天文館威震太陽神特展學習單(國小高年級解答)

1、(2)

2、(3)

3、(1)

4、(3)

5、(2)